



Omtrek en oppervlakte berekenen

Rekenen



Naam:

Groep:

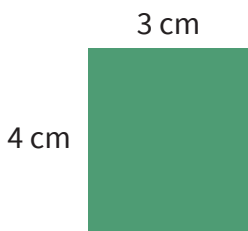
Wat ga je oefenen?

- Berekenen van de omtrek
- Berekenen van de oppervlakte



Gebruik bij het oefenen de artikelen over **het berekenen van de omtrek** en **het berekenen van de oppervlakte**

Wat is de omtrek en wat is de oppervlakte? Schrijf op.




omtrek: cm

oppervlakte: cm²



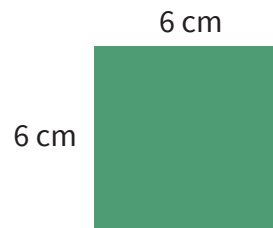
omtrek: cm

oppervlakte: cm²



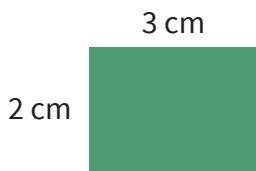
omtrek: cm

oppervlakte: cm²



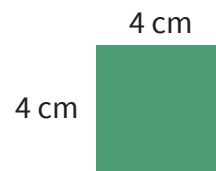
omtrek: cm

oppervlakte: cm²



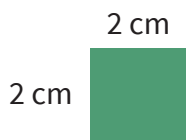
omtrek: cm

oppervlakte: cm²



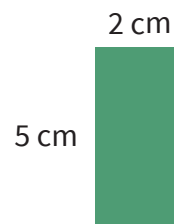
omtrek: cm

oppervlakte: cm²




omtrek: cm

oppervlakte: cm²



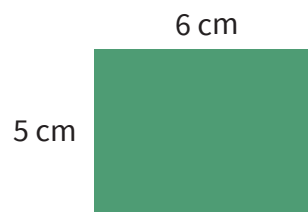
omtrek: cm

oppervlakte: cm²



omtrek: cm

oppervlakte: cm²



omtrek: cm

oppervlakte: cm²

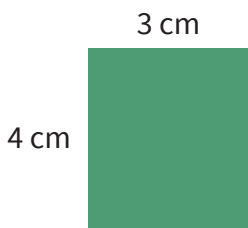
Wat ga je oefenen?

- Berekenen van de omtrek
- Berekenen van de oppervlakte

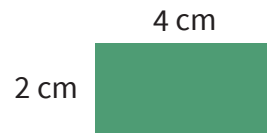


Gebruik bij het oefenen de artikelen over **het berekenen van de omtrek** en **het berekenen van de oppervlakte**


Wat is de omtrek en wat is de oppervlakte? Schrijf op.



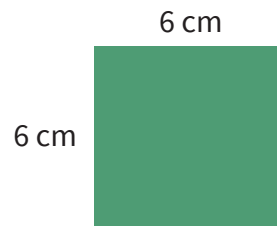
omtrek: 14 cm
oppervlakte: 12 cm²



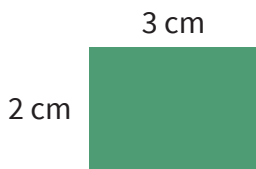
omtrek: 12 cm
oppervlakte: 8 cm²



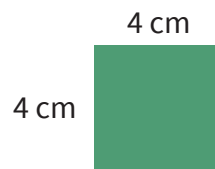
omtrek: 12 cm
oppervlakte: 5 cm²



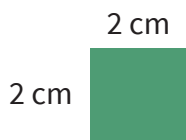
omtrek: 24 cm
oppervlakte: 36 cm²



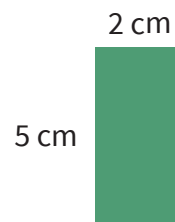
omtrek: 10 cm
oppervlakte: 6 cm²




omtrek: 16 cm
oppervlakte: 16 cm²



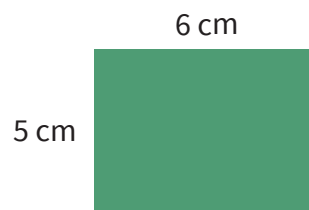
omtrek: 8 cm
oppervlakte: 4 cm²



omtrek: 14 cm
oppervlakte: 10 cm²



omtrek: 18 cm
oppervlakte: 18 cm²



omtrek: 22 cm
oppervlakte: 30 cm²