



# Oppervlakte berekenen



Rekenen

Naam: .....

Groep: .....

## Wat ga je oefenen?

- Berekenen van de oppervlakte



Gebruik bij het oefenen de artikelen over **het berekenen van de oppervlakte**

Wat is de oppervlakte? Schrijf op.

6 cm  
7 cm  
..... cm<sup>2</sup>

8 cm  
8 cm  
..... cm<sup>2</sup>

8 cm  
3 cm  
..... cm<sup>2</sup>

7 cm  
4 cm  
..... cm<sup>2</sup>

5 cm  
4 cm  
..... cm<sup>2</sup>

4 cm  
9 cm  
..... cm<sup>2</sup>

3 cm  
3 cm  
..... cm<sup>2</sup>

12 cm  
7 cm  
..... cm<sup>2</sup>

9 cm  
2 cm  
..... cm<sup>2</sup>

11 cm  
4 cm  
..... cm<sup>2</sup>











### Wat ga je oefenen?

- Berekenen van de oppervlakte



Gebruik bij het oefenen de artikelen over **het berekenen van de oppervlakte**

Wat is de oppervlakte? Schrijf op.

6 cm 7 cm 	42 cm <sup>2</sup>	8 cm 8 cm 	64 cm <sup>2</sup>
8 cm 3 cm 	24 cm <sup>2</sup>	7 cm 4 cm 	28 cm <sup>2</sup>
5 cm 4 cm 	20 cm <sup>2</sup>	4 cm 9 cm 	36 cm <sup>2</sup>
3 cm 3 cm 	9 cm <sup>2</sup>	12 cm 7 cm 	84 cm <sup>2</sup>
9 cm 2 cm 	18 cm <sup>2</sup>	11 cm 4 cm 	44 cm <sup>2</sup>