




# Bussommen tot en met 12 [1]


Rekenen


Naam: .....


Groep: .....

**Kinderen stappen in de bus. Hoeveel kinderen zitten er nu in de bus?**


7 →  .....

6 →  .....


5 →  .....


4 →  .....


12 →  .....

2 →  .....


8 →  .....

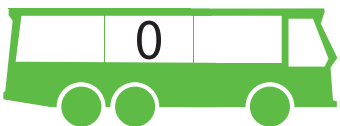
10 →  .....


4 →  .....

6 →  .....

3 →  .....

5 →  .....

9 →  .....

11 →  .....

Kinderen stappen in de bus. Hoeveel kinderen zitten er nu in de bus?

$7 \rightarrow \text{bus met } 3 \rightarrow 10$

$6 \rightarrow \text{bus met } 2 \rightarrow 8$

$5 \rightarrow \text{bus met } 1 \rightarrow 6$

$4 \rightarrow \text{bus met } 1 \rightarrow 5$

$12 \rightarrow \text{bus met } 0 \rightarrow 12$

$2 \rightarrow \text{bus met } 6 \rightarrow 8$

$8 \rightarrow \text{bus met } 4 \rightarrow 12$

$10 \rightarrow \text{bus met } 1 \rightarrow 11$

$4 \rightarrow \text{bus met } 2 \rightarrow 6$

$6 \rightarrow \text{bus met } 6 \rightarrow 12$

$3 \rightarrow \text{bus met } 4 \rightarrow 7$

$5 \rightarrow \text{bus met } 3 \rightarrow 8$

$9 \rightarrow \text{bus met } 0 \rightarrow 9$

$11 \rightarrow \text{bus met } 1 \rightarrow 12$